







### 3.3 Die Gelenke

Fülle die freien Felder aus! Gib zu jeder Gelenkart mind. ein Bsp. an.  
Schreibe die Einflussgrößen für das Bewegungsmaß auf sowie was echte und unechte Gelenke sind.

 - 
  - 
  - 
  - 
  - 
  - Äuß. Gelenkkapselschicht - Bänder -

Die bewegliche Verbindung zweier Knochen nennt man Gelenk. Die Gelenkkapsel, die in die Knochenhaut übergeht  
 Gelenkkapsel - Gelenkknorpel - Gelenkkopf - Gelenkpfanne - Gelenkschmiere - Gelenkspalt -  
 Inn. Gelenkkapselschicht - Knochen - Muskel - Sehne

